

6003

Всероссийская олимпиада школьников 2019-2020 учебный год  
Школьный этап. История, 6 класс. 2 вариант  
Время выполнения 60 мин. Максимальное кол-во баллов – 100

**Задание № 1. Выберите правильный ответ (по 1 баллу за каждый правильный ответ, максимальное количество баллов за задание - 5 баллов).**

1.1 Земледелие возникло

- 1) примерно 2 млн лет назад;
- 2) примерно 40 тыс. лет назад;
- 3) примерно 10 тыс. лет назад.

05

1.2 Земледелие и постоянные поселения. Что связывает эти понятия?

- 1) появление постоянных поселений было причиной возникновения земледелия;
- 2) земледелие сделало возможным появление постоянных поселений;
- 3) эти явления никак не связаны.

05

1.3 Важнейшим изобретением первобытных людей является

- 1) пурпурная краска;
- 2) письменность;
- 3) лук и стрелы.

05

1.4 Египтяне называли свою страну «даром Нила». Это название объясняется тем, что:

- 1) боги подарили египтянам Нил;
- 2) каждый день египтяне приносили Нилу жертву;
- 3) Нил орошает земли речной долины, удобряет их илом и делает плодородными.

15

1.5 После объединения Верхнего и Нижнего Египта столицей стал город

- 1) Фивы;
- 2) Ахетатон;
- 3) Мемфис.

15

**Задание № 2. Закончите предложение. 2 балла за каждый правильный ответ, максимальное количество баллов за задание - 4 балла**

2.1 Прошлое человечества изучает специальная наука археология

2.2 Время до рождения Иисуса Христа называют до н.э. время после рождения Иисуса Христа называют н.э.

**Задание № 3. По какому принципу образован ряд (2 балла за каждый правильный ответ, максимальное количество баллов за задание - 6 баллов)**

6003

3.1 разливы реки, оазисы, плодородный ил, тростник; *Египет*

3.2 Мемфис, Фивы, Ахетатон, Александрия; *Египет 25*

3.3 Геродот, Гераклит, Гиппократ, Демокрит. *Греция 25*

Задание № 4. Какое слово является лишним в каждом ряду и почему? 2 балла за каждый правильный ответ, максимальное количество баллов за задание - 6 баллов.

4.1 Духи, икона, оборотни, тотем, магия. *05*

4.2 шахматы, навигация, компас, цифры. *05*

4.3 Сенат, консул, архонт, трибун. *05*

Задание № 5. Восстановите правильную хронологическую последовательность событий. Запишите ответ в виде последовательности номеров событий в задании (4 балла за каждую правильную последовательность, при частично правильной последовательности - 2 балл, максимальный балл за все задание - 8):

5.1

1) Саламинское сражение;

3) основание Рима;

2) восстание Спартака;

4) возникновение скотоводства.

<i>1</i>	<i>1</i>	<i>3</i>	<i>2</i>
----------	----------	----------	----------

*40*

5.2 *25*

1) первые олимпийские игры в Греции;

3) гибель спартанского царя Леонида;

2) покорение огня древнейшими людьми;

4) падение Западной римской империи.

<i>2</i>	<i>1</i>	<i>3</i>	<i>4</i>
----------	----------	----------	----------

*35*

Задание № 6. Соотнесите имена богов Древней Греции с именами богов Древнего Рима. 2 балла за каждое правильное соотношение, максимальный балл за все задание 14 баллов; оценивается каждое правильное соотношение.

<u>Боги Древней Греции:</u>	<u>Боги Древнего Рима:</u>
1. <del>Арес</del>	А) Венера
2. Афродита	Б) Либер
3. <del>Гера</del>	В) Марс
4. Гермес	Г) Меркурий
5. Деметра	Д) Церера
6. Дионис	Е) Юнона
7. <del>Зевс</del>	Ж) Юпитер

1	2	3	4	5	6	7
<i>В</i>	<i>А</i>	<i>Е</i>	<i>Г</i>	<i>Д</i>	<i>Ж</i>	<i>Б</i>

*35 35 35 35 35 35 35*

*185*

6003

**Задание № 7. Заполните пробелы в текстах. Ответ оформите в виде перечня элементов под соответствующими номерами. За каждое правильно вставленное слово – 3 балла; максимальный балл за все задание 18.**

7.1 Ассирийский царь \_\_\_\_\_ 1 \_\_\_\_\_ был образованным человеком. Он повелел собрать в своем дворце большую \_\_\_\_\_ 2 \_\_\_\_\_, где хранились сосуды с \_\_\_\_\_ 3 \_\_\_\_\_ табличками.


1	2	3

7.2 Земледельцам приходилось много трудиться. Особых усилий требовало строительство каналов и земляных насыпей, необходимых для \_\_\_\_\_ 1 \_\_\_\_\_ полей. Поля, куда вода не доходила, поливали при помощи специальных приспособлений \_\_\_\_\_ 2 \_\_\_\_\_. Земледельцы отдавали в казну часть урожая и скота – платили \_\_\_\_\_ 3 \_\_\_\_\_.

1	2	3

**Задание № 8. Перед вами - 4 изображения, 4 карты. Сопоставьте фрагмент изображение и карту. Результат запишите в таблицу. За каждый правильный ответ- 5 баллов, максимальное количество баллов за задание- 20 баллов.**

I.



II.



III.


3

IV.

4

6003 2

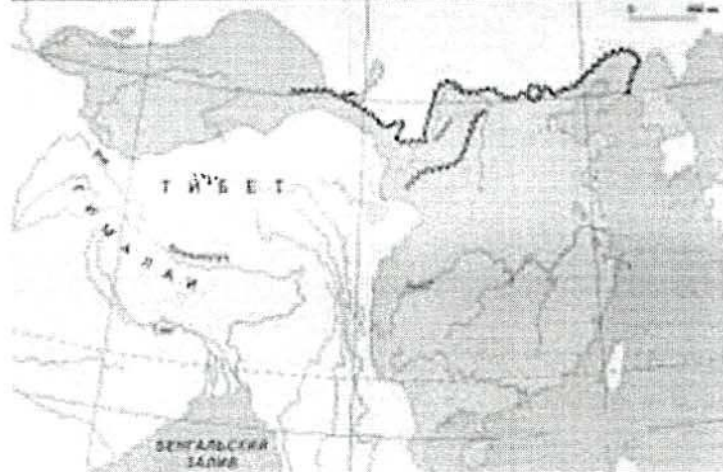
2



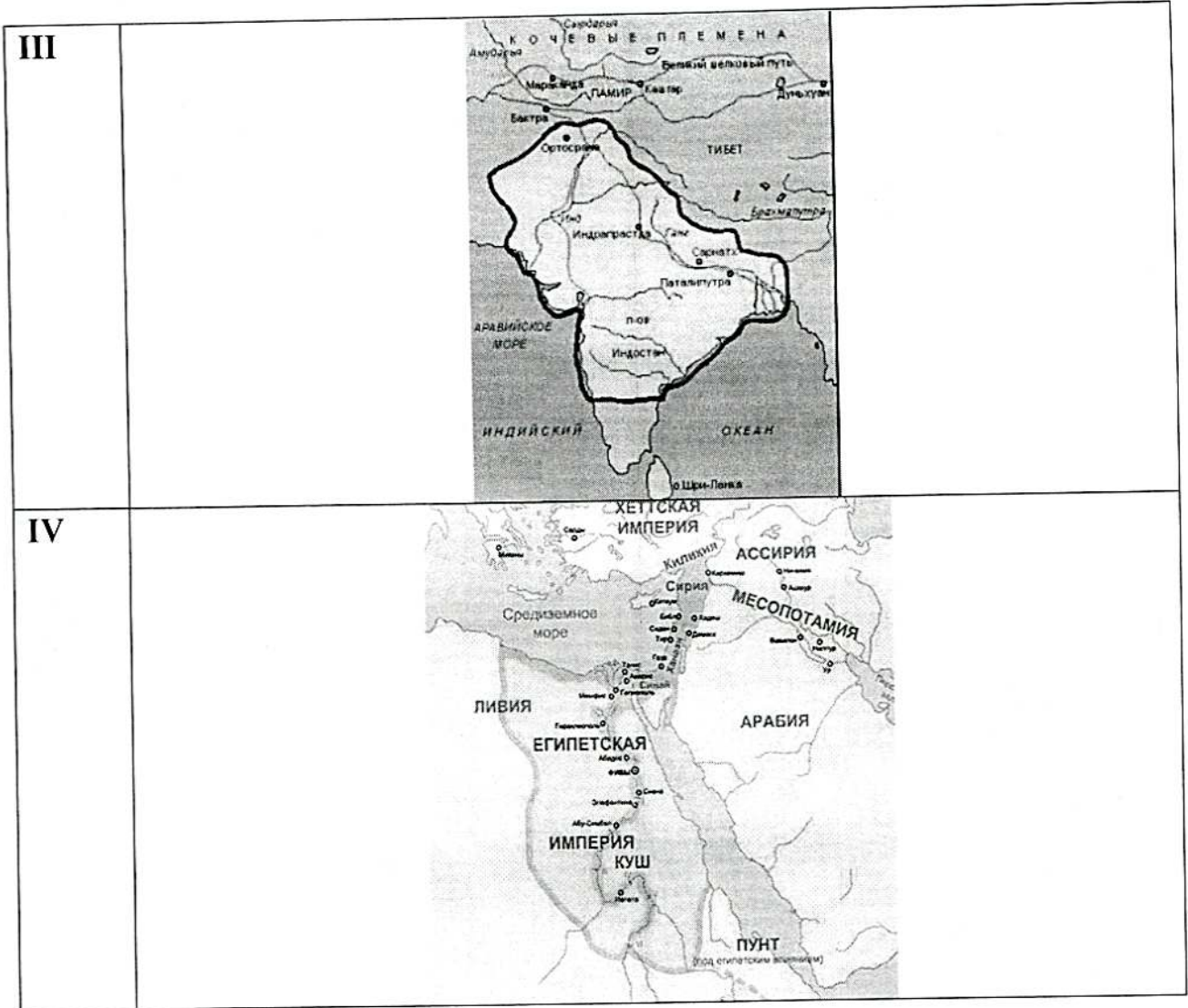
I



II



6003



Изображение	Карта
3	1
4	3
7	2
2	4


26  
20  
28  
20  
85

**Задание № 9. Назовите имя человека, о котором идет речь в стихотворении. 9 баллов за правильный ответ.**

История не вычеркнет атак  
и славное хранит героя имя  
им называют и не просто так,  
не просто так звучат семь букв .....  
Тот подвиг не забыт. Живёт и ныне!

6003

**Задание № 10. За что греки поставили памятник ослу? 10 баллов за правильный ответ.**



бюджетное  
образовательное

учреждение «Красноярская  
школа № 1»

№ \_\_\_\_\_ 20\_\_ г.  
« \_\_\_\_\_ » \_\_\_\_\_

660021, г. Красноярск,  
ул. Ломоносова, д. 19  
тел. 221-36-78  
тел./факс 266-88-98

Копия  
в систему.

485

05

6012

Всероссийская олимпиада школьников 2019-2020 учебный год  
Школьный этап. История, 6 класс. **2 вариант**  
Время выполнения 60 мин. Максимальное кол-во баллов – 100

**Задание № 1. Выберите правильный ответ (по 1 баллу за каждый правильный ответ, максимальное количество баллов за задание - 5 баллов).**

**1.1** Земледелие возникло

- 1) примерно 2 млн лет назад;
- 2) примерно 40 тыс. лет назад;
- 3) примерно 10 тыс. лет назад.

05

**1.2** Земледелие и постоянные поселения. Что связывает эти понятия?  
1) появление постоянных поселений было причиной возникновения земледелия;

- 2) земледелие сделало возможным появление постоянных поселений;
- 3) эти явления никак не связаны.

05

**1.3** Важнейшим изобретением первобытных людей является

- 1) пурпурная краска;
- 2) письменность;
- 3) лук и стрелы.

05

**1.4** Египтяне называли свою страну «даром Нила». Это название объясняется тем, что:

- 1) боги подарили египтянам Нил;
- 2) каждый день египтяне приносили Нилу жертву;
- 3) Нил орошает земли речной долины, удобряет их илом и делает плодородными.

15

**1.5** После объединения Верхнего и Нижнего Египта столицей стал город

- 1) Фивы;
- 2) Ахетатон;
- 3) Мемфис.

15

**Задание № 2. Закончите предложение. 2 балла за каждый правильный ответ, максимальное количество баллов за задание - 4 балла**

**2.1** Прошлое человечества изучает специальная наука

археология  
История 05

**2.2** Время до рождения Иисуса Христа называют до н.э., а время после рождения Иисуса Христа называют н.э.

25

**Задание № 3. По какому принципу образован ряд (2 балла за каждый правильный ответ, максимальное количество баллов за задание - 6 баллов)**



6012

*Египет*

3.1 разливы реки, оазисы, плодородный ил, тростник;

3.2 Мемфис, Фивы, Ахетатон, Александрия;

3.3 Геродот, Гераклит, Гиппократ, Демокрит.

*ташцы 25*

*Мудрыцы 25*

**Задание № 4. Какое слово является лишним в каждом ряду и почему? 2 балла за каждый правильный ответ, максимальное количество баллов за задание - 6 баллов.**

4.1 Духи, икона, оборотни, тотем, магия.

4.2 шахматы, навигация, компас, цифры.

4.3 Сенат, консул, архонт, трибун.

*05  
05  
05*

**Задание № 5. Восстановите правильную хронологическую последовательность событий. Запишите ответ в виде последовательности номеров событий в задании (4 балла за каждую правильную последовательность, при частично правильной последовательности - 2 балл, максимальный балл за все задание - 8):**

5.1

1) Саламинское сражение;

3) основание Рима;

2) восстание Спартака;

4) возникновение скотоводства.

<i>4</i>	<i>1</i>	<i>3</i>	<i>2</i>
----------	----------	----------	----------

*45*

5.2

1) первые олимпийские игры в Греции;

3) гибель спартанского царя Леонида;

2) покорение огня древнейшими людьми;

4) падение Западной римской империи.

<i>2</i>	<i>1</i>	<i>3</i>	<i>4</i>
----------	----------	----------	----------

*85*

**Задание № 6. Соотнесите имена богов Древней Греции с именами богов Древнего Рима. 2 балла за каждое правильное соотношение, максимальный балл за все задание 14 баллов; оценивается каждое правильное соотношение.**

<u>Боги Древней Греции:</u>	<u>Боги Древнего Рима:</u>
<del>1. Арес</del>	А) Венера
<del>2. Афродита</del>	Б) Либер
<del>3. Гера</del>	В) Марс
<del>4. Гермес</del>	Г) Меркурий
5. Деметра	Д) Церера
6. Дионис	Е) Юнона
<del>7. Зевс</del>	Ж) Юпитер

1	2	3	4	5	6	7
<i>B</i>	<i>a</i>	<i>e</i>	<i>z</i>	<i>g</i>	<i>5</i>	<i>2e</i>
<i>3</i>	<i>3</i>	<i>3</i>	<i>3</i>	<i>3</i>	<i>3</i>	<i>3</i>

*185*

6012

**Задание № 7. Заполните пробелы в текстах. Ответ оформите в виде перечня элементов под соответствующими номерами. За каждое правильно вставленное слово – 3 балла; максимальный балл за все задание 18.**



7.1 Ассирийский царь \_\_\_\_\_ 1 \_\_\_\_\_ был образованным человеком. Он повелел собрать в своем дворце большую \_\_\_\_\_ 2 \_\_\_\_\_, где хранились сосуды с \_\_\_\_\_ 3 \_\_\_\_\_ табличками.

1	2	3

7.2 Земледельцам приходилось много трудиться. Особых усилий требовало строительство каналов и земляных насыпей, необходимых для \_\_\_\_\_ 1 \_\_\_\_\_ полей. Поля, куда вода не доходила, поливали при помощи специальных приспособлений \_\_\_\_\_ 2 \_\_\_\_\_. Земледельцы отдавали в казну часть урожая и скота – платили \_\_\_\_\_ 3 \_\_\_\_\_.

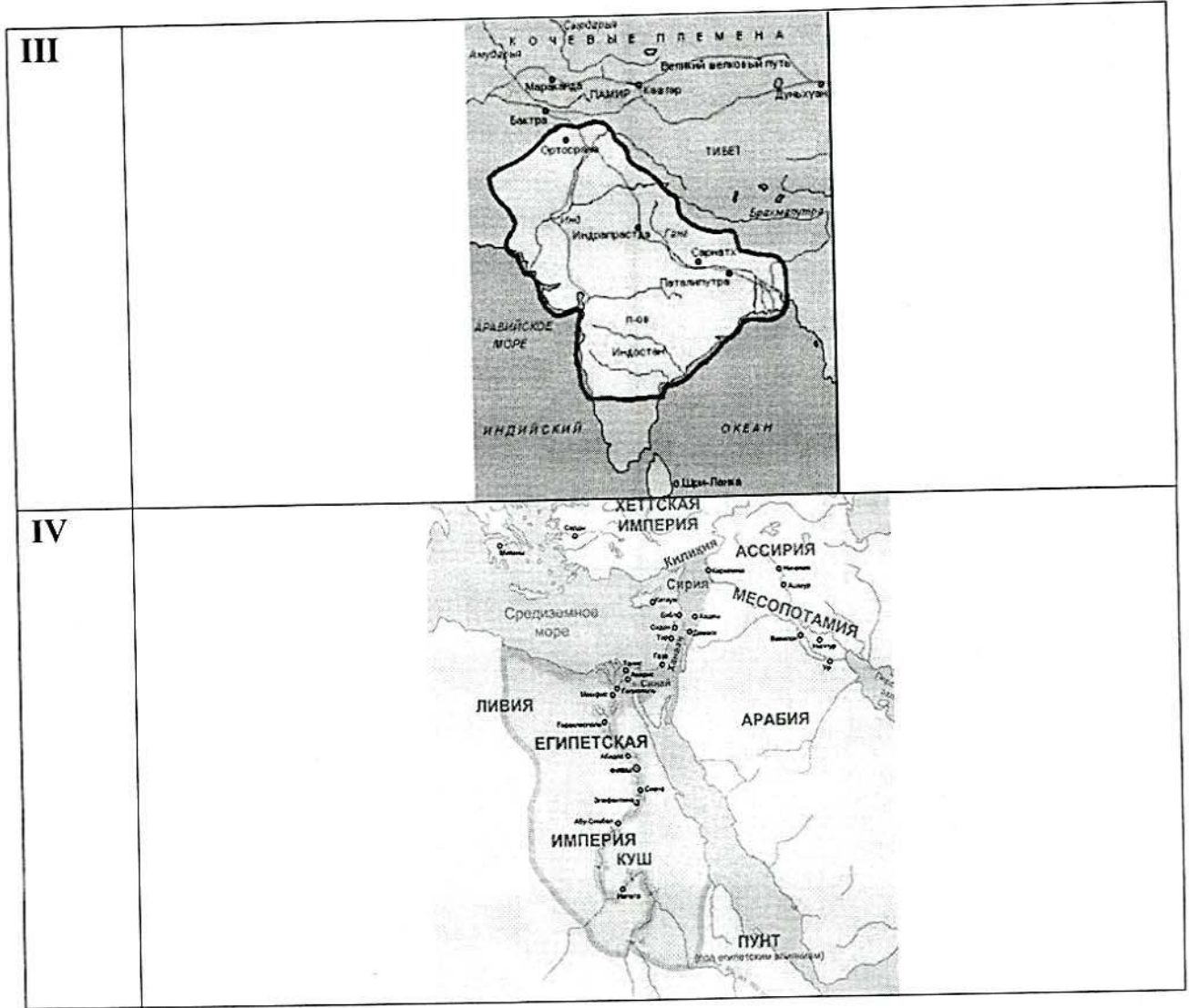
1	2	3

**Задание № 8. Перед вами - 4 изображения, 4 карты. Сопоставьте фрагмент изображение и карту. Результат запишите в таблицу. За каждый правильный ответ- 5 баллов, максимальное количество баллов за задание- 20 баллов.**

<p>I.</p> 	<p>II.</p> 
<p>III.     3</p>	<p>IV.     4</p>



6012



Изображение	Карта	
3	1	26
4	3	26
1	2	26
2	4	26


85

**Задание № 9. Назовите имя человека, о котором идет речь в стихотворении. 9 баллов за правильный ответ.**

История не вычеркнет атак  
и славное хранит героя имя  
им называют и не просто так,  
не просто так звучат семь букв .....  
Тот подвиг не забудь. Живёт и ныне!

6012

**Задание № 10. За что греки поставили памятник ослу? 10 баллов за правильный ответ.**



Бюджетное  
общееобразовательное учреждение «Красноярская  
школа № 1»

№ \_\_\_\_\_

« \_\_\_\_ » \_\_\_\_\_ 20 \_\_\_\_ г.

660021, г. Красноярск,  
ул. Димитрова, Д. 19  
тел. 221-36-78  
тел./факс 266-88-98

На  
командировку  
в г. Иркутск

485



9206

4. По какому принципу образованы ряды?

4.1 Дантон, Робеспьер, Марат

революционеры 05

4.2 Апраксин С.Ф., Фермор В.В., Салтыков

П.С. Военначальники 25

4.3 Б. Диаш, Х. Колумб, Васко да Гама

мореплаватели, первооткрыватели

9 баллов

15

35

Задание 5. Соотнесите имя исторического деятеля с основным содержанием его деятельности. Свой ответ внесите в таблицу

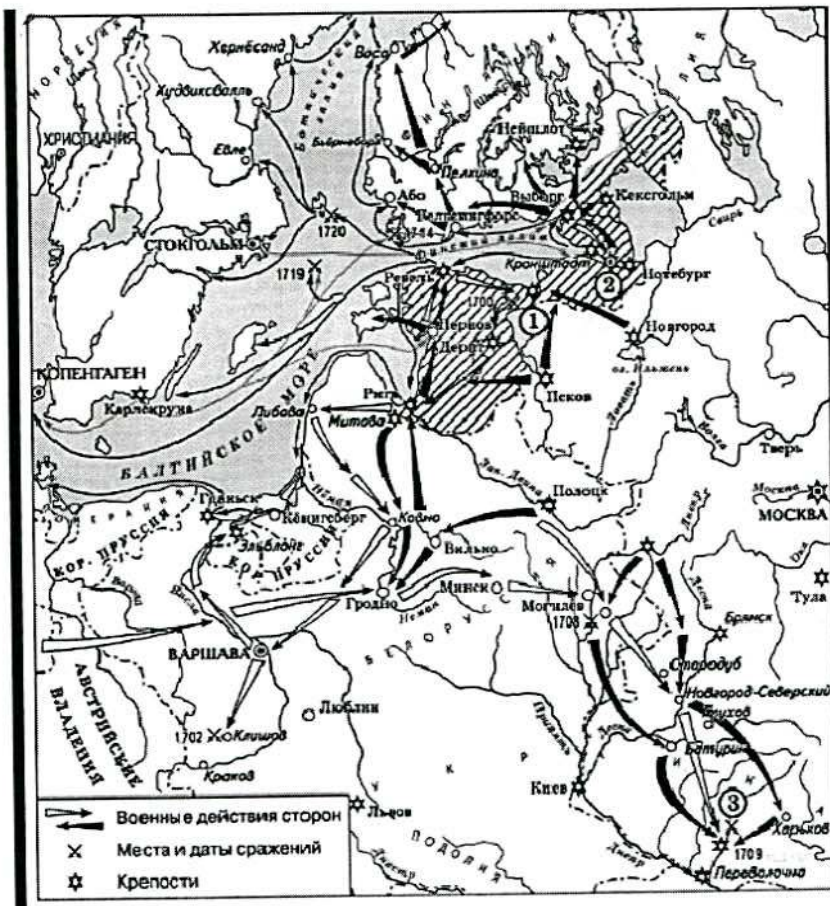
	Имя		Деятельность
1	В. Беринг	А	Автор проекта Зимнего дворца
2	М.В. Ломоносов	Б	Художник, автор «Петр I на смертном одре»
3	И.Н. Никитин	В	Писатель, о котором Екатерина II сказала: «бунтовщик похуже Пугачева»
4	Симон Ушаков	Г	Ученый энциклопедист, открыл наличие атмосферы на Венере
5	В. Растрелли	Д	Живописец, автор иконы «Спас Нерукотворный»
6	Н.М. Карамзин	Е	Руководитель I и II Камчатских экспедиций
7	А.Н. Радищев	Ж	Основатель сентиментализма в русской литературе

1	2	3	4	5	6	7
е	г	б	д	а	в	ж

14 баллов

Задание 6. Внимательно рассмотрите карту и ответьте на вопросы





6.1 Напишите название войны, события которой отображены на карте Северная 25

6.2 Какое событие обозначено цифрой 3 Полтавская битва 25

6.3 Укажите название мирного договора, который был подписан по итогам войны Ништадский 25

6.4 Назовите имя царя, в правление которого происходила данная война Пётр I 25

8 баллов

### Задание 7



9206

- 7.1 Укажите название картины Утро стрелецкой казни 25
- 7.2 Укажите фамилию художника, автора картины Суриков 25
- 7.3 Укажите годы, с точностью до десятилетия, когда происходили описанные события 1700-1709 1699-1700 25
- 7.4 Кто был правителем России в данный период Пётр I 25
- 7.5 Укажите место, где происходит событие отраженное на картине Москва 25
- 10 баллов
- (105)

**Задание 8. Заполните пробелы в тексте. Ответ оформите в виде перечня элементов под соответствующими номерами**

Пётр I 25 (1) умер внезапно в январе 1725г., простудившись при спасении моряков во время наводнения. Правом на престол обладали внук умершего императора Пётр 25 (2), жена Екатерина 25 (3) и дочери Анна и Елизавета 25 (4). Для решения вопроса о престолонаследии были созваны высшие чины империи. И когда чаша весов начала было склоняться в пользу Петра II (2), оказалось, что дворец окружен солдатами Семеновского и Преображенского полков, выведенных по приказу Меньшикова 25 (5) в поддержку Екатерины I (3). Для примирения враждующих дворцовых партий был создан Синод 05 (6).

12 баллов

(105)

**Задание 9. Назовите фамилию нашего земляка, чье имя носит Литературный музей г. Красноярска, Красноярский государственный педагогический университет** Астафьев 25

2 балла

9206

**Задание 10. Прочтите фрагмент документа и ответьте на вопросы**

1. Судить суд боярам и окольныхчим, а на суде быть у бояр и окольныхчих дьякам. Всякому судье посула от суда не иметь никому. А судом не мстить, не дружить никому. <...>

20. А наместникам и волостелям, которые держат кормления без боярского суда, холопа и рабу без доклада не выдавать.

56. А холопа полонит рать татарская, а выбежит ис полону и он свободен.

57.0 крестьянском выходе. А крестьянам выйти из волости, из села в село, один срок в году, за неделю до Юрьева дня осеннего [26 ноября] и неделю после Юрьева дня осеннего. Дворы пожилые платят в полях за двор 1 рубль, а в лесах — полтина. А который крестьянин поживет за кем год, да и пойдет прочь, и он платит четверть двора, а два года поживет, полдвора платит; а три года поживет три четверти двора; а четыре года поживет, и он весь двор платит. <... >

61.0 изгородях. А промеж сел и деревень городить изгороди.

О межах. А кто сорет [распашет] межу или грани ссечет ~~из~~ великого князя земли боярина или монастыря, того бить кнутом да истцу взять на нем рубль. А крестьяне промежду себя кто у кого межу распашет или перекосит, ино волостелям имати на том по два алтына.

**Вопросы:**

10.1 Укажите из какого документа взят этот фрагмент Судебник Ивана III (25)

10.2 В каком году был принят данный документ?

1497 (25)

9206

**10.3 Как Судебник определяет условия выхода крестьян? Почему была установлена именно эта дата выхода крестьян от помещиков?**

05

7 баллов

**ТВОРЧЕСКОЕ ЗАДАНИЕ (эссе 20 баллов).**

**При написании эссе следует исходить из следующих критериев:**

1. Обоснованность выбора темы (объяснение выбора темы и задач, которые вы ставите перед собой в своей работе).
2. Творческий характер восприятия темы, ее осмысления.
3. Грамотность использования исторических фактов и терминов.
4. Четкость и доказательность основных положений работы.
5. Знание различных точек зрения по избранному вопросу.

**Темы эссе:**

1. «Жестоко расправляясь со своими противниками из числа других русских князей, не брезгуя для этого татарской помощью, Калита добился значительного усиления могущества Московского княжества» (Л.В. Черепнин).
2. «Опричная «затея» являлась крупной государственной реформой». (С.Ф. Платонов)
3. «Одной ногой он еще крепко упирался в родную православную старину, а другую уже занес было за черту, да так и остался в этом нерешительном переходном положении» (В.О. Ключевский об Алексее Михайловиче).
4. «Петр не переносил в Россию готовые плоды чужого знания и опыта, теории и техники», а стремился «пересаживать самые корни на свою почву, чтобы они дома производили свои плоды... Это была всегдашняя мысль Петра, основная и плодотворнейшая мысль его реформы». (В.О. Ключевский).

Торгово-сервисная компания "Сбербанк России" (Сбербанк России) (Сбербанк России) (Сбербанк России)

№ \_\_\_\_\_ 20\_\_ г.

не поменяла и проверил, и все правильно

переплатил, и все правильно  
660021, г. Красноярск,  
ул. Ломоносова, д. 19  
Тел./факс 241-36-78  
Тел./факс 266-88-98

Платеж по счету на оплату услуг

переплатил? не так, и все правильно

карткой - и все правильно в Сбербанке или

мобой картой, и все правильно

переплатил, и все правильно

ком, и все правильно

названия для Сбербанка - и все правильно

Имя, и за названием "Переплатил" и в

«Россия заявила о себе ещё в Петровскую эпоху  
 а следники Петра не смогли продолжить  
 наступательное вмешательство в обшконтинентал  
 ела, и лишь при Елизавете Петровне Россия оконча  
 вошла» в Европу как одна из великих де  
 определяющих её будущее». (М.Ю. Анисимов)

«В конечном выводе изучение военного и граждан  
 правления России при Павле заставляет признать, что  
 осударь имел трезвый и практический ум и способнс  
 истеме; что мероприятия его направлены были п  
 глубоких язв и злоупотреблений» (Ф.В. Радопчин).

Всероссийская олимпиада школьников 2019-2020 учебный год  
Школьный этап. История, 7 класс, задания  
Время выполнения 60 мин. Максимальное кол-во баллов – 100

**Вариант 2**

**Задание 1.** Согласно «Повести временных лет», Рюрик был приглашен на княжение:

- А) вятичами; В) древлянами;  
Б) ильменскими словенами; Г) белыми хорватами. 05

2 балла

**Задание 2.** Расположите в хронологической последовательности:

- А) Принятие христианства в Древней Руси.  
Б) Съезд князей в Любече, выработка принципа «каждый держит отчину свою».  
В) Введение «уроков и погостов».  
Г) Создание Правды Ярослава.

В Г А Б 65

12 баллов

**Задание 3.** Исключите лишнее и объясните свой выбор. (9 баллов)

3.1 Древяне, поляне, саксы, радимичи, кривичи

Саксы лишние. Остальные древнерусские. 45

3.2 Холоп, рядович, дружинник, челядин, закуп

Закуп. 05

3.3 Волхвы, идол, Ярило, митрополит, жертвоприношения

Ярило. Не относится к церкви 05

12 баллов

**Задание 4.** По какому принципу образованы ряды?

4.1 Фридрих Барбаросса, Ричард Львиное Сердце, Филипп II Август

в обратном порядке 05

4.2 Ю. Долгорукий, Андрей Боголюбский, Всеволод Большое Гнездо

пожало правли по порядку.

8 баллов

**Задание 5.** Соотнесите имя исторического деятеля с основным содержанием его деятельности. Свой ответ внесите в таблицу:

1	Владимир Мономах	А	Тверской купец, совершивший путешествие по Персии, Индии и Турции
2	Иван Калита	Б	Правитель, которого называют «Александр Македонский русской истории»
3	Святослав	В	Первый из правителей Руси принявший христианство
4	Андрей Боголюбский	Г	Русский правитель, при котором русский митрополит обосновался в Москве
5	Афанасий	Д	Русский князь, при котором был построен

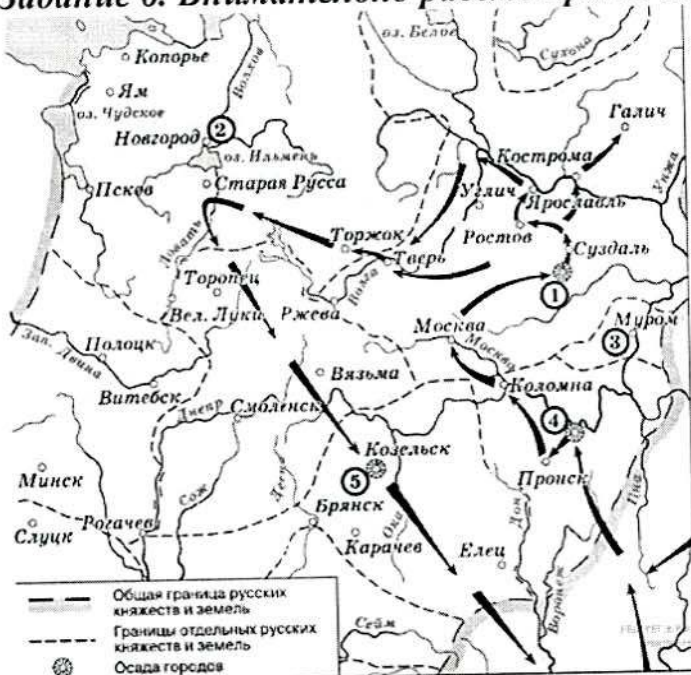
	Никитин		Успенский собор во Владимире
6	Иван III	Е	Инициатор съезда князей в Любече
7	Владимир I	Ж	Русский правитель, ликвидировавший зависимость Руси от Золотой Орды

1	2	3	4	5	6	7
Е	Г	Б	Ж	А	Ж	В

148

14 баллов

**Задание 6. Внимательно рассмотрите карту и ответьте на вопросы**



- 6.1 Напишите имя полководца, осуществившего поход, обозначенный на схеме стрелками Батый 35
- 6.2 Какой город обозначен на карте цифрой 1 Суздаль 05
- 6.3 Укажите номер, под которым указан «Злой город». 5 35
- 6.4 Укажите век, в котором происходили указанные на карте события XIII в. 35

12 баллов

95

**Задание 7**

Перед вами памятники архитектуры России.



1)




2)



7007



3)



4)

7.1 Укажите название памятников

- 1) Киевский монастырь  
 2) \_\_\_\_\_  
 3) \_\_\_\_\_  
 4) Святой Спирит собор

7.2 Заполните пропуски в таблице

	г. Владимир
1)	

18 баллов

**Задание 8.** Заполните пробелы в тексте. Ответ оформите в виде перечня элементов под соответствующими номерами

5 апреля 1<sup>06</sup> (1) года на льду Чудского<sup>35</sup> (2) озера произошла решающая битва. Рыцари построили свои войска в форме клина. В центре находилась хорошо вооруженная и защищенная доспехами пехота, на флангах – тяжелая конница. Александр Невский<sup>36</sup> (3) хорошо знал боевые приемы врага. Мужественно сражались русские воины, их нажим на фланги все более усиливался и закончился полным разгромом немецкого войска. Битва на льду Чудского<sup>35</sup> (2) озера вошла в историю под названием Ледовое побоище (4). 36

12 баллов

**Задание 9.** Назовите фамилию нашего земляка, чье имя носит Красноярский государственный театр оперы и балета Хворостовский 45

4 балла

Задание 10

Повесть временных лет

«В год 6562 скончался великий князь русский Ярослав. Еще при жизни своей он дал завещание сыновьям своим, сказав им: «Вот я покидаю мир этот, сыны мои; живите в любви, потому что все вы братья, от одного отца и одной матери. И, если будете жить в любви друг к другу, Бог будет с вами и покорит вам врагов ваших. И будете мирно жить. Если же будете в ненависти жить, в распрях и междоусобиях, то погибнете сами и погубите землю отцов своих и дедов своих, которую они добыли трудом своим великим, но живите в мире, слушаясь брат брата. Вот я поручаю заместить меня на столе моем, в Киеве, старшему сыну моему и брату вашему Изяславу; слушайтесь его, как слушались меня, пусть он заменит вам меня; а Святославу даю Чернигов, а Всеволоду Переяславль, а Игорю Владимир (южный), а Вячеславу Смоленск». И так разделил он между ними города, запретив им переступать предел братний и сгонять (один другого со 40 стола), сказал Изяславу: «Если кто захочет обидеть брата своего, ты помогай обижаемому». Итак завещал он сыновьям своим жить в любви.»

1. Ярослав предохраняет своих сыновей в завещании  
астрей, между собой. 35

2. После отца идет бюджет править старший сын. 35

краевое государственное  
бюджетное  
образовательное  
учреждение «Красноярская  
школа № 1»

№ \_\_\_\_\_  
« 7 » \_\_\_\_\_ 20\_\_ г.

660021, г. Красноярск,  
ул. Ломоносова, д. 19  
тел. 221-36-78  
тел./факс 266-88-98

525